

Sousedé České republiky

Popis

V této hodině budou děti poznávat hranice a polohu České republiky; určí a lokalizují na mapě sousední státy České republiky, jejich vlajky a najít jejich hlavní města; podle zadané internetové adresy najdou základní informace o sousedních státech.

Materiály

Programy		
Microsoft Windows	MS Word	Internet Explorer
Rozdávané texty		
pracovni_list.doc		
Šablony		
PRACOVNI_LIST.DOC		
Další pomůcky		
Školní zeměpisný atlas		

Příprava

Pracovní list - učitel připraví v programu MS Word pracovní list s otázkami, vlajčkami států a slepými mapkami států (kliparty firmy Zoner).

1. Pracovní list lze zhotovit v textovém editoru např. MS Word – při otevření programu je dobré si nový soubor hned uložit.
2. Do souboru je možné vložit vlajčky a mapky států jako obrázek z klipartů od firmy Zoner (dodáváno s instalací Zoner Calisto 4) příkazem *Vložit/obrázek/ze souboru* a poté nalistovat příslušný adresář ve kterém se soubor nachází, vybrat obrázek a kliknout na tlačítko *vložit*. V případě, že některá vlajčka v klipartech chybí nebo škola program Calisto nevlastní, je možno vlajčky namalovat v programu Malování (je součástí programu Windows), soubor s obrázkem uložit a vložit do Wordu stejným způsobem jak bylo popsáno při vkládání klipartu.
3. Pracovní list je nutné buď po síti nebo z diskety rozkopírovat na všechny počítače v učebně.

Pomůcky: pracovní listy v elektronické podobě (např. program Word), Školní zeměpisný atlas pro každého žáka, nástěnná mapa Evropy, počítač pro každého žáka (případně jeden počítač pro každou dvojici). Pokud je počítačů pro žáky málo je nutné pracovní listy vytisknout pro každého žáka zvlášť.

Zahájení

Děti sedí v počítačové učebně po jednom(max. po dvou) u počítače; otevřou si ve společném adresáři soubor *pracovni_list.doc* ; mají rozdané pracovní listy a Školní zeměpisné atlasy. Učitel vysvětlí žákům téma hodiny – sousedé České republiky.

Činnost v hodině

- Žáci mají před sebou vytištěné pracovní listy ze souboru *pracovni_list.doc* (pokud není k dispozici barevná tiskárna otevřou si na počítači soubor *pracovni_list.doc* kde vidí vlaječky států barevně. Prvním úkolem žáků je určit a do pracovního listu zapsat název státu kterému ta která vyobrazená vlajka patří.
- Žáci si otevřou Školní zeměpisný atlas na straně s politickou mapou Evropy a do pracovních listů k obrysům hranic jednotlivých států dopíší příslušné názvy států.
- Žáci mají otevřený soubor *pracovni_list.doc* a díky vloženým hypertextovým odkazům se dostanou na stránky informujících o sousedních zemích tak, aby mohli vyplnit potřebné údaje do tabulky v souboru *pracovni_list.doc* .



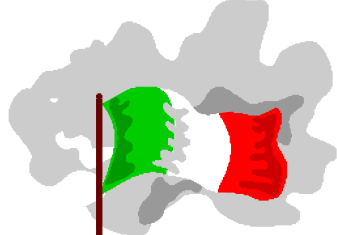

Ukázka tabulky

Stát	Hl. město	Měna	Jazyk	Rozloha	Počet obyv.
Rakousko					
	Bratislava				
			polština		
Německo					

Pomocí atlasu a informací získaných z Internetu žáci zodpoví otázky vytištěné v pracovním listě (Se kterým státem má ČR nejdelší hranice? Na hranice kterého sousedního státu je z našeho města nejbližší? Jak se jmenuje nejbližší hraniční přechod? Na hranice kterého sousedního státu je z našeho města nejdále?)

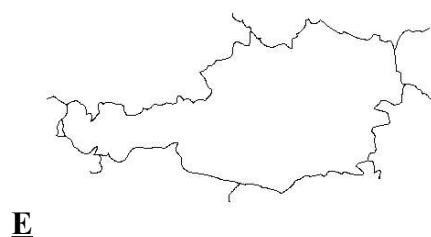
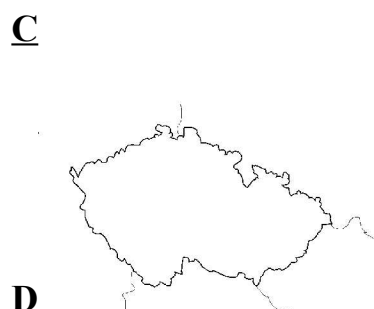
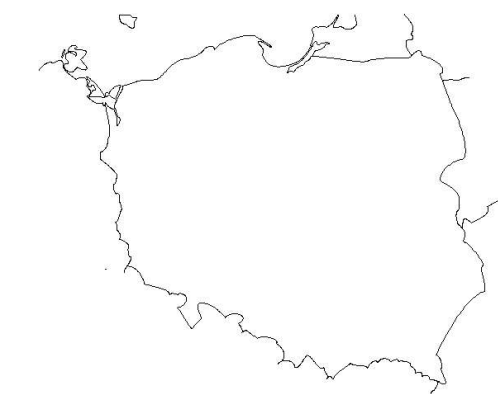
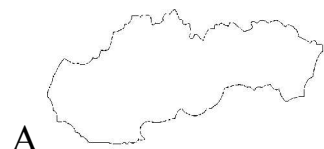
Pracovní list – vlastivěda 4. –5. třída
Sousedé České republiky

Úkol č. 1: Urči jakému státu patří příslušná vlajka a pokud tento stát sousedí s ČR napiš k němu poznámku *soused*



Úkol č. 2 Přiřaď k sobě správné odpovědi na otázku: „Jakému státu patří zobrazená mapka?“

1. Česká republika, 2. Slovensko, 3. Rakousko, 4. Polsko, 5. Německo



Úkol č. 3: Dopln tabulku pomocí informací načerpaných na těchto Internetových stránkách:

<http://www.muweb.cz/www/Polsko%2DPoland/>

<http://www.fingate.cz/soubory/evropa/nemecko.html>

<http://www.fingate.cz/soubory/evropa/rakousko.html>

<http://www.vlada.gov.sk/slovensko/>

Stát	Hl. město	Měna	Jazyk	Rozloha	Počet obyv.
Rakousko					
	Bratislava				
			polština		
Německo					

Úkol č. 4 Podle atlasu zjisti:

- Se kterým státem má ČR nejdelší hranice:
- Na hranice kterého sousedního státu je z našeho města nejbliže:
- Jak se jmenuje nejbližší hraniční přechod:
- Na hranice kterého sousedního státu je z našeho města nejdále: